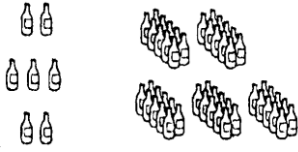



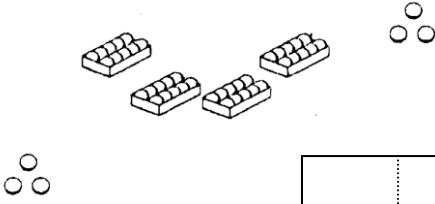
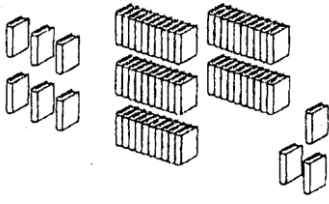

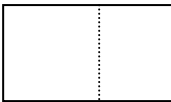



10 よりおおきいかず
20 よりおおきいかず


1 いくつありますか。まとまりや たばを よくみて かぞえましょう。


2  に すうじを かきましょう。

(1) 10 が 3 こ } 

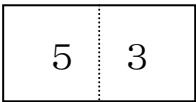
1 が 8 こ

(2) 10 が 0 こ } 

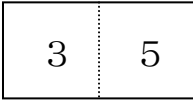
1 が 4 こ

(3) 10 が 2 こ } 

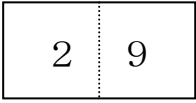
1 が 0 こ

(4) 10 が 5 こ } 

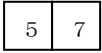
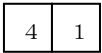


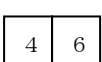
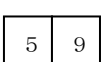


1 が  こ

(5) 10 が  こ } 

1 が  こ

(6) 10 が  こ } 

1 が  こ

1. (1)  (2)  (3) 20 (4) 1 が  こ
- (5) 10 が  こ (6) 10 が  こ
- (3)  (4)  (5) 10 が  こ (6) 1 が  こ