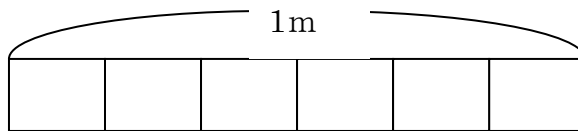


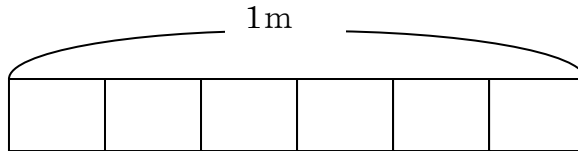
分数
分けた大きさ

1 つぎの長さにあたる部分に色をぬりましょう。

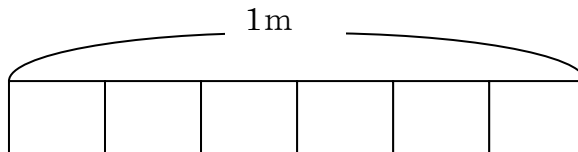
(1)  $\frac{1}{3}m$



(2)  $\frac{1}{6}m$

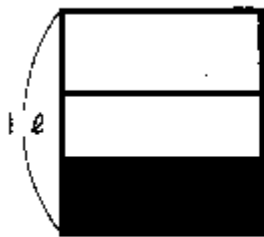


(3)  $\frac{3}{4}m$



2 次のかさは、何分の何ℓでしょう。

(1)



( ) ℓ

(2)



( ) ℓ

2 (1)  $\frac{1}{3}$  (2)  $\frac{1}{5}$