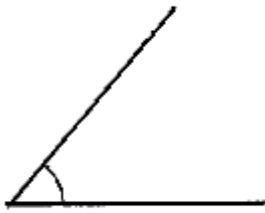


年 組 名前 ()

A 角の大きさ
角の大きさのはかり方

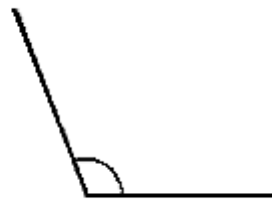
1 次の角度を分度器ではかって調べましょう。

(1)



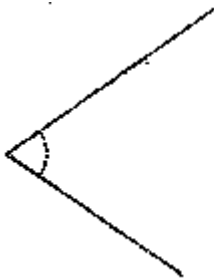
(°)

(2)



(°)

(3)



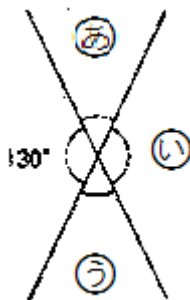
(°)

(4)



(°)

2 ㉔と㉕と㉖の角度は、それぞれ何度でしょう。



㉔ (°)

㉕ (°)

㉖ (°)

1 (1)50° (2)110° (3)70° (4)160° 2 ㉔50° ㉕130° ㉖50°
--