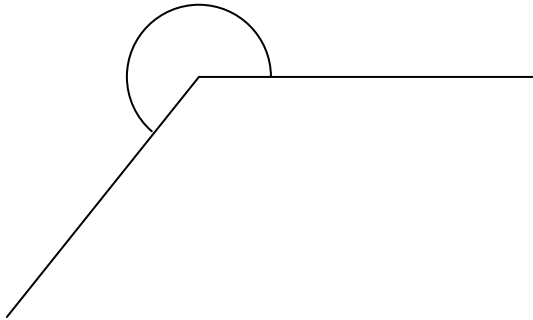


角の大きさ
角の大きさのはかり方

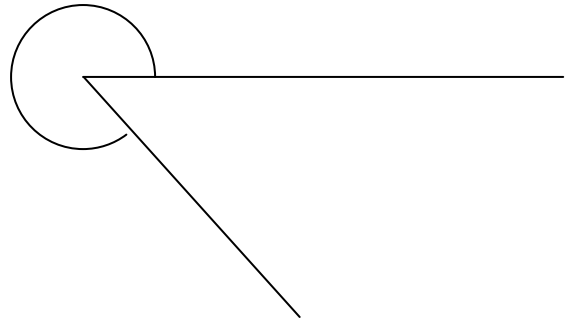
1 次の角度を分度器ではかって調べましょう。

(1)



(°)

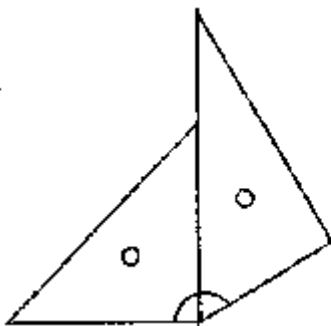
(2)



(°)

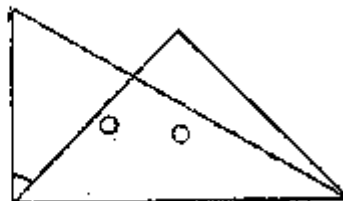
2 1組の三角じょうぎを組み合わせてみました。次の角度は何度になるでしょう。計算で求めましょう。

(1)



(°)

(2)



(°)

1 (1)240° (2)320°
2 (1)150° (90° + 60°) (2)45° (90° - 45°)